

LBRIS

We know
books

Natalia Zotea
Ecaterina Schimbător
Lucia Mihăilă
Tatiana Tcaci
Viorica Zagorodniuc

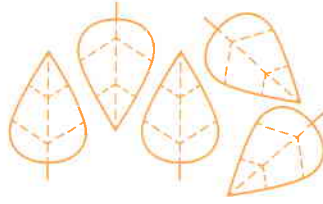
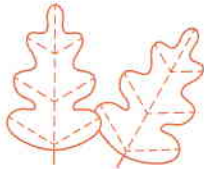

Cifre istete

5-6
ani


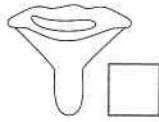

MATEMATICĂ

EDITURA
PRUT

- Încercuiește cu **verde** grupul care conține cele mai multe obiecte, iar cu **albastru** – pe cel care conține mai puține. Desenează în pătrat tot atâtea frunze câte îți indică cifra. Colorează-le. În ce anotimp întâlnim frunze de diferite culori? (595, 609, 613, 672)



- Încercuiește grupul cu ciuperci de aceeași mărime. Colorează-le pe cele care au aceeași formă. Bifează în ciupercile de aceeași culoare. (596, 597, 624, 668)



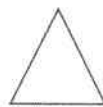
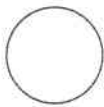


- Formează mulțimi prin încercuire. Trasează o linie de la fiecare mulțime la cifra corespunzătoare numărului de elemente. Încercuiește cu roșu cel mai mare număr. (609, 612, 596, 597)




1 2 3 4 5

- Numește figurile geometrice. Realizează corespondența între ele și imagini. Numește alte obiecte care au formă pătrată, rotundă, dreptunghiulară sau triunghiulară. (632, 633)




- Colorează jumătățile de fructe. Încercuiește fructul cu cele mai multe semințe și subliniază-l pe cel cu un sâmbure. (595, 609)



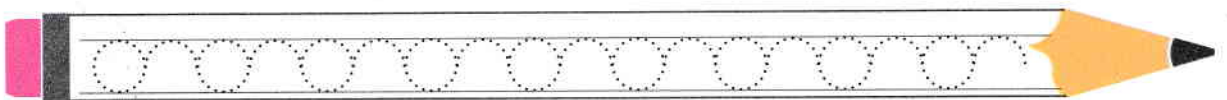
- Ana a repartizat ouăle întregi și jumătățile de ou în cele două farfurii. Câte ouă întregi și câte jumătăți de ou sunt în fiecare farfurie? Scrie răspunsul în casete. Care farfurie va fi mai grea? De ce trebuie să consumăm ouă? La prepararea căror bucate se folosesc ouă? (596, 595, 122, 123)



- Colorează traseul de la fiecare legumă spre jumătatea ei, folosind culoarea legumei respective. Numește legumele, colorează-le, apoi alcătuește propoziții despre ele. (668, 402, 405, 409)



- Trasează conturul pe liniile punctate. (546)




1. Formează mulțimi prin încercuire respectând criteriul indicat. (594, 596, 597, 598)

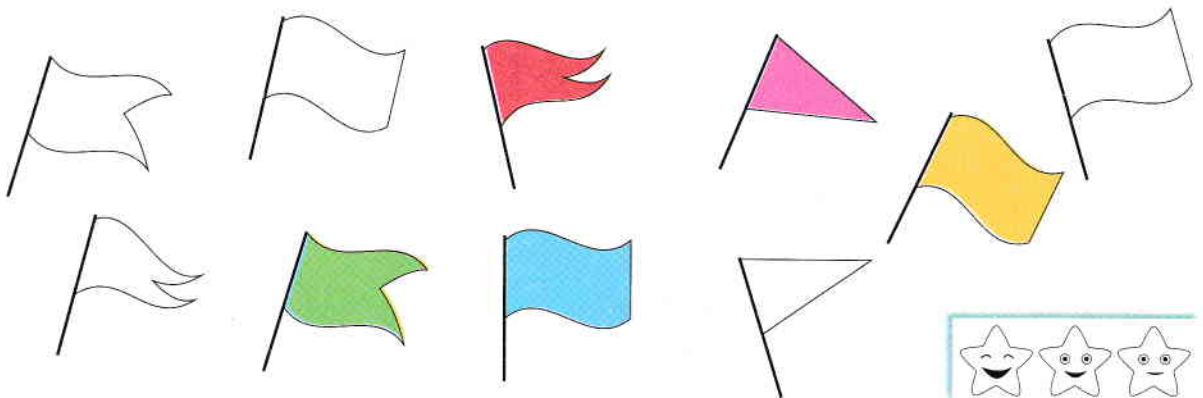
a) Criteriul: *aceeași culoare.*



b) Criteriul: *aceeași mărime.* Ce curiozități știi despre ființele reprezentate? Ce animale trăiesc în savană? Colorează. (668, 669, 690)







2. Colorează astfel încât să obții perechi de stegulețe identice (aceeași culoare și aceeași formă). (594)




• Continuă traseele după model. (546)

















- Desenează în fiecare casetă tot atâtea cerculețe câte obiecte sunt în cutia respectivă. Compară numărul cerculețelor din casetele alăturate și scrie în semnul potrivit. Cine și cum utilizează aceste obiecte? Ce reguli de securitate trebuie respectate când folosim acul și foarfeca? (546, 595, 405, 160, 161)

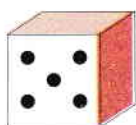
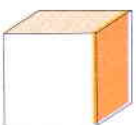
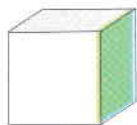
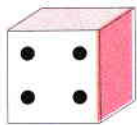
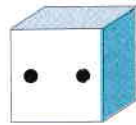
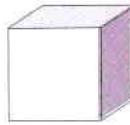
	$<$ $>$		$<$ $>$		$<$ $>$	
<input type="checkbox"/>	<input type="checkbox"/>	<input type="checkbox"/>	<input type="checkbox"/>	<input type="checkbox"/>	<input type="checkbox"/>	<input type="checkbox"/>

- Compară numărul mașinilor din partea dreaptă a fiecărui indicator cu numărul celor din partea stângă. Scrie pe indicator semnul de comparație potrivit. În ce direcție se deplasează mașinile de pe fiecare traseu? (595, 689, 645, 575)



- Desenează puncte pe zaruri astfel încât relațiile dintre numărul punctelor să fie adevărate. (595)

	$>$			$<$			$=$	
---	-----	---	---	-----	---	--	-----	---

- Conturează semnele de comparație. (546)

